



Faglig kontakt under eksamen:
Richard Williamson, (735) 90154

MA3002 Generell topologi

Lørdag 1. juni 2013

Tid: 09:00 – 13:00

Hjelpemidler: Kode D

Ingen trykte eller håndskrevne hjelpemidler tillatt.

Kalkulator: Hewlett Packard HP30S, Citizen SR-270X eller Citizen SR-270X College.

Besvar fire av fem oppgaver. Hvis du besvarer alle fem oppgavene, teller de fire beste besvarelsene.

Hver oppgave er verdt 25 poeng. Estimert antall for hvert delpunkt vises i klammer. Karakteren fastsettes på grunnlag av poeng og en generell kvalitativ bedømmelse av besvarelsene.

Oppgave 1

a) Hvilke av mengder under definerer en topologi på mengden $X = \{a, b, c, d\}$?

- (i) $\{\emptyset, \{a, b\}, \{c, d\}, \{b, c, d\}, X\}$
- (ii) $\{\emptyset, \{a\}, \{c\}, \{a, c\}, \{b, c\}, \{a, b, c\}, \{b, c, d\}, X\}$
- (iii) $\{\emptyset, \{b\}, \{c\}, \{a, d\}, \{c, d\}, \{a, c, d\}, \{b, c, d\}, X\}$

Begrunn eventuelle tilfeller som ikke passer. [5]

b) La \mathcal{O} være topologien

$$\{\emptyset, \{b\}, \{a, b\}, \{b, d\}, \{a, b, d\}, \{b, c, d\}, X\}$$

på X . Er mengden $\{c, d\}$ lukket i (X, \mathcal{O}) ? Begrunn svaret. [2]

c) Regn ut grensen av mengden $\{a, b, c\}$ i (X, \mathcal{O}) . [5]

d) Er (X, \mathcal{O}) kompakt? [3]

e) La $X' = \{a', b', c', d'\}$, og la \mathcal{O}' være topologien på X' med basis

$$\{\{a'\}, \{a', b'\}, \{a', c'\}, \{a', d'\}\}.$$

La

$$X \xrightarrow{f} X'$$

være avbildningen gitt ved $a \mapsto b'$, $b \mapsto a'$, $c \mapsto d'$, $d \mapsto c'$. Er f kontinuert? Begrunn svaret. [5]

f) La $Y = \{a, b, c, d, e\}$ og la \mathcal{O}_Y være topologien

$$\{\emptyset, \{b\}, \{c\}, \{a, b\}, \{b, c\}, \{a, b, c\}, \{c, d, e\}, \{b, c, d, e\}, Y\}$$

på Y . Er (Y, \mathcal{O}_Y) sammenhengende? Begrunn svaret. [5]

Oppgave 2

a) Tenk på bokstaven A som en delmengde av \mathbb{R}^2 utstyrt med underromstopologien \mathcal{O}_A med hensyn på $(\mathbb{R}^2, \mathcal{O}_{\mathbb{R}^2})$.

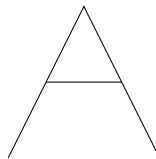
Med andre ord, la A være unionen av mengdene

$$\{(x-1, y) \mid 0 \leq x \leq 1 \text{ og } y = x\},$$

$$\{(x, y+1) \mid 0 \leq x \leq 1 \text{ og } y = -x\},$$

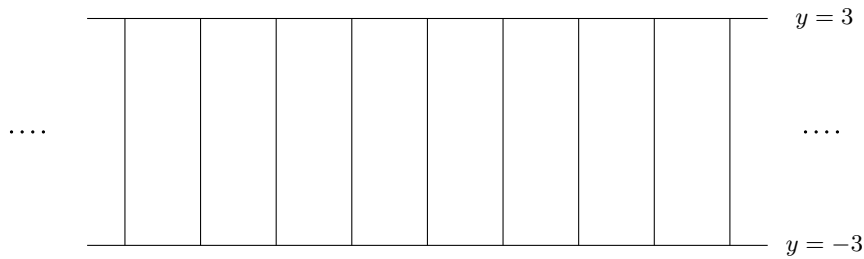
og

$$\left\{ (x, y) \mid -\frac{1}{2} \leq x \leq \frac{1}{2} \text{ og } y = \frac{1}{2} \right\}.$$



Er (A, \mathcal{O}_A) kompakt? Begrunn svaret. [7]

b) La $X = \{(x, y) \in \mathbb{R}^2 \mid -3 \leq y \leq 3\}$ være utstyrt med underromstopologien \mathcal{O}_X med hensyn på $(\mathbb{R}^2, \mathcal{O}_{\mathbb{R}^2})$.



Gi et eksempel på en åpen overdekning av X som ikke har en endelig deloverdekning. [5]

- c) La X være en delmengde av \mathbb{R} , utstyrt med underromstopologien \mathcal{O}_X med hensyn på $(\mathbb{R}, \mathcal{O}_{\mathbb{R}})$. Følgende utsagn er galt: (X, \mathcal{O}_X) er sammenhengende hvis og bare hvis X er et åpent intervall (a, b) eller et lukket intervall $[a, b]$ for noen $a, b \in \mathbb{R}$.

Hva er den riktige beskrivelsen av sammenhengende delmengder av $(\mathbb{R}, \mathcal{O}_{\mathbb{R}})$? [3]

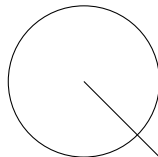
- d) Tenk på bokstaven Q som en delmengde av \mathbb{R}^2 , utstyrt med underromstopologien \mathcal{O}_Q med hensyn på $(\mathbb{R}^2, \mathcal{O}_{\mathbb{R}^2})$.

Med andre ord, la Q være unionen av mengdene

$$\{(x, y) \in \mathbb{R}^2 \mid \|(x, y)\| = 1\}$$

og

$$\{(x, y) \in \mathbb{R}^2 \mid 0 \leq x \leq 1 \text{ og } y = -x\}.$$



Vis at (A, \mathcal{O}_A) ikke er homeomorf med (Q, \mathcal{O}_Q) .

Nevn de resultatene fra pensum som behøves. Det er ikke nødvendig å gi et bevis. [10]

Oppgave 3

- a) Vis at $(\mathbb{R}^2, \mathcal{O}_{\mathbb{R}^2})$ er Hausdorff.

Du kan ikke bruke resultater fra forelesningene uten å bevise dem. [5]

- b) La (X, \mathcal{O}_X) og (Y, \mathcal{O}_Y) være topologiske rom. La $X \times Y$ være utstyrt med produkttopologien $\mathcal{O}_{X \times Y}$. Bevis at avbildningen

$$X \times Y \xrightarrow{p} X$$

gitt ved $(x, y) \mapsto x$ er kontinuerlig. [5]

c) La (X, \mathcal{O}_X) være et topologisk rom. Anta at det finnes distinkte elementer $x, x' \in X$ slik at følgende holder.

(1) Det er en vei fra x til x' i X .

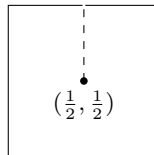
(2) For hver $x'' \in X$ er det enten en vei fra x til x'' i X eller en vei fra x' til x'' i X .

Vis at (X, \mathcal{O}_X) er veisammenhengende.

Du kan benytte uten bevis resultater fra pensum. [5]

d) La

$$Y = I^2 \setminus \{(x, y) \in I^2 \mid x = \frac{1}{2} \text{ og } y > \frac{1}{2}\}.$$



La Y være utsyrt med underromstopologien \mathcal{O}_Y med hensyn på (I^2, \mathcal{O}_{I^2}) . Er (Y, \mathcal{O}_Y) sammenhengende? Begrunn svaret.

Du kan benytte uten bevis resultater fra pensum. [5]

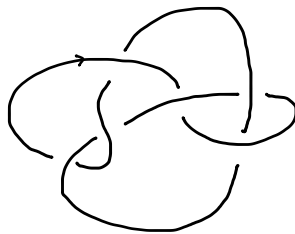
e) Er (Y, \mathcal{O}_Y) lokalkompakt? Begrunn svaret.

Du kan benytte uten bevis resultater fra pensum. [5]

Oppgave 4

a) Definer en knute. [3]

b) Regn ut vridningen (the writhe) av den orienterte knuten gitt under. [5]



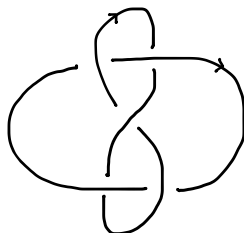
c) Har nødvendigvis to isotopiske knuter samme vridning (writhe)? Gi et bevis eller et moteeksempel. [5]

d) Skein-relasjonene som tilfredsstill Jones-polynomet til en orientert lenke er som følger.

$$1) V_{\text{unknot}}(t) = 1$$

$$2) t^{-1} V_{\downarrow \nearrow}(t) - t V_{\nearrow \downarrow}(t) = (t^{1/2} - t^{-1/2}) V_{\curvearrowright}(t)$$

Bruk skein-relasjonene, eller bruk andre metoder, for å regne ut Jones-polynomet til den orienterte lenken gitt under.



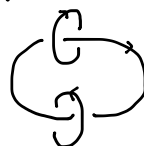
Du kan anta uten bevis følgende Jones-polynomene. [10]

$$V_{\bigcirc \bigcirc}(t) = -t^{-1/2} - t^{1/2}$$

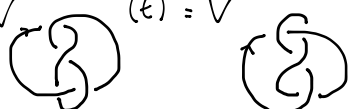
$$V_{\text{link}}(t) = -t^{5/2} - t^{1/2}$$

$$V_{\text{link}}(t) = -t^{-5/2} - t^{-1/2}$$

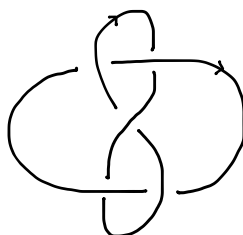
V $(t) = t^{-1} + 2 + t^1$



V $(t) = V$ $(t) = t^{-2} - t^{-1} + 1 - t + t^2$



e) Er den orienterte lenken

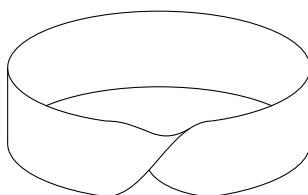


fra d) isotopisk med speilbildet sitt?

Du kan benytte uten bevis resultater fra pensum. [2]

Oppgave 5

a) Definer en ekvivalensrelasjon \sim på I^2 slik at $(I^2 / \sim, \mathcal{O}_{I^2 / \sim})$ er Möbius-båndet. [3]

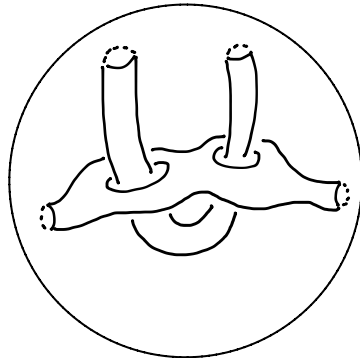


b) Vis at Möbius-båndet er kompakt og sammenhengende.

Du kan anta at (I, \mathcal{O}_I) er kompakt og sammenhengende, men du må begrunne hvorfor eventuelle andre topologiske rom som dukker opp i argumentasjonen er kompakt eller sammenhengende.

Du kan benytte uten bevis resultater fra pensum, men du kan ikke anta at Möbius-båndet kan betraktes som en delmengde av \mathbb{R}^n for noen $n \geq 0$, med mindre du kan bevise det. [6]

- c) Er Möbius-båndet en flate? [4]
- d) Utfør etterfølgende kirurgier på det topologiske rommet (X, \mathcal{O}_X) gitt under — en 2-sfære med tuneller — til du oppnår et topologisk rom som er homeomorf til 2-sfæren (S^2, \mathcal{O}_{S^2}) .



Tegn en illustrasjon for hver kirurgi og gi hver illustrasjon en kort bildetekst. [7]

- e) Ved å benytte resultatet over, eller ved å bruke andre måter, bestem Euler karakteristikken av (X, \mathcal{O}_X) .
Du kan benytte uten bevis resultater fra pensum. [5]